



T.C.

MİLLÎ EĞİTİM BAKANLIĞI

ÖLÇME, DEĞERLENDİRME VE SINAV HİZMETLERİ GENEL MÜDÜRLÜĞÜ

SINAVLA ÖĞRENCİ ALACAK ORTAÖĞRETİM KURUMLARINA İLİŞKİN MERKEZİ SINAV

SAYISAL BÖLÜM

A

KİTAPÇIK TÜRÜ

Adı ve Soyadı :

Sınıfı / Şubesi :

Öğrenci Numarası :

DERS ADI	SORU SAYISI	TOPLAM SORU SAYISI	SINAV SÜRESİ (DAKİKA)
MATEMATİK	20	40	60
FEN BİLİMLERİ	20		

02 HAZİRAN 2018

Saat : 11.30

ÖĞRENCİLERİN DİKKATİNE!

1. Sınıf öğrenci yoklama listesinde belirtilen sınıfta ve sıra numarasında oturunuz.
2. Cevap kâğıdındaki kimlik bilgilerinin doğruluğunu kontrol ediniz. Bilgiler size ait değilse veya cevap kâğıdı kullanılmayacak durumdaysa sınav görevlilerine bildirin.
3. Kitapçık türünü cevap kâğıdındaki ilgili alana kodlayınız.
4. Cevap kâğıdı üzerindeki kodlamaları kurşun kalemle yapınız.

**SINAV BAŞLAMADAN ÖNCE
KİTAPÇIĞIN ARKA KAPAĞINDAKİ
UYARILARI MUTLAKA OKUYUNUZ.**

SAYISAL BÖLÜM 2018

MATEMATİK

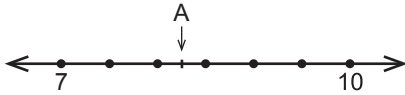
1. Bu testte 20 soru vardır.
2. Cevaplarınızı, cevap kâğıdına işaretleyiniz.

1. Kenarlarının uzunlukları 6 cm ve 8 cm olan bir dikdörtgene benzer olacak şekilde, kenar uzunlukları santimetre cinsinden doğal sayı olan bir dikdörtgen çizilecektir.

Çizilecek bu dikdörtgenin alanı 48 santimetrekareden büyük olacağına göre en az kaç santimetrekaredir?

- A) 96 B) 108 C) 144 D) 192

2.



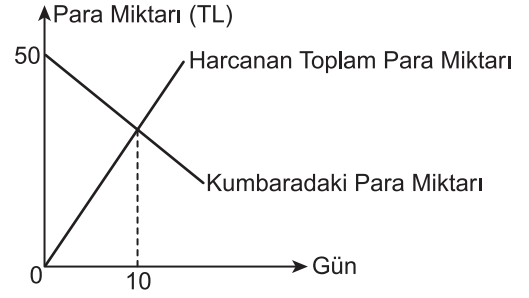
Yukarıdaki sayı doğrusunda 7 ile 10'a karşılık gelen noktaların arası 6 eş parçaya ayrılmıştır.

Buna göre A noktasına karşılık gelen sayı aşağıdakilerden hangisi olabilir?

- A) $\sqrt{94}$ B) $\sqrt{88}$ C) $\sqrt{79}$ D) $\sqrt{68}$

3. Ahmet her gün kumbarasından aynı miktarda para alarak harcıyor. Ahmet'in kumbarasındaki para miktarı ve harcadığı toplam para miktarını gösteren doğrusal grafik aşağıda verilmiştir.

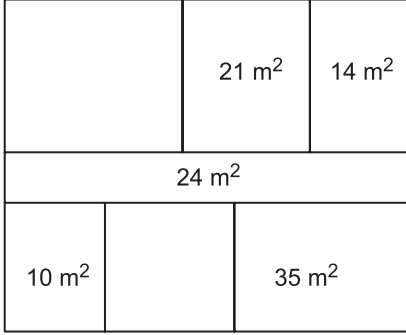
Grafik: Kumbarada Bulunan ve Harcanan Toplam Para Miktarı



Grafiğe göre Ahmet'in kumbarasındaki para kaçınıcı günde biter?

- A) 20 B) 25 C) 30 D) 35

4.



Yukarıda her bir bölümü dikdörtgen şeklinde olan dikdörtgen biçimindeki kat planı üzerinde bazı bölümlerin alanları verilmiştir.

Bu dikdörtgenlerin her birinin kenar uzunlukları metre cinsinden birer doğal sayı olduğuna göre alanı verilmeyen bölümlerin alanları toplamı en az kaç metrekaredir?

- A) 36 B) 54 C) 64 D) 76

5. 21 000 m² lik bir arsa ortaklar arasında paylaşılacaktır. Paylaşım için arsanın tamamı 250 m², 500 m² ve 1000 m² lik bölümlere ayrılıyor. Toplam bölüm sayısı ortakların sayısına eşittir. Her bir bölüm numaralandırılıyor ve bu numaralar özdeş kartların üzerine yazılarak boş bir torbaya atılıyor. Arsanın ortakları arasında çekilecek kura ile bu bölümlerin sahipleri belirlenecektir.

Bu kurada torbadan çekilecek ilk kartın üzerinde yazan numaranın; alanı 250 m², 500 m² ve 1000 m² olan bölümlerden birine ait olma olasılıkları eşit olduğuna göre bu arsanın kaç ortağı vardır?

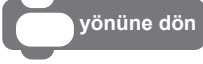
- A) 24 B) 36 C) 48 D) 60


6. Altan ve Can, defterlerine kenar uzunlukları santimetre cinsinden doğal sayı olan birer kare çiziyorlar. Altan'ın çizdiği karenin alanı kenar uzunlukları 7 cm ve 9 cm olan bir dikdörtgenin alanından büyük, Can'ın çizdiği karenin alanı ise bu dikdörtgenin alanından küçüktür.

Buna göre Altan ile Can'ın çizdiği karelerin alanları arasındaki fark en az kaç santimetrekaredir?

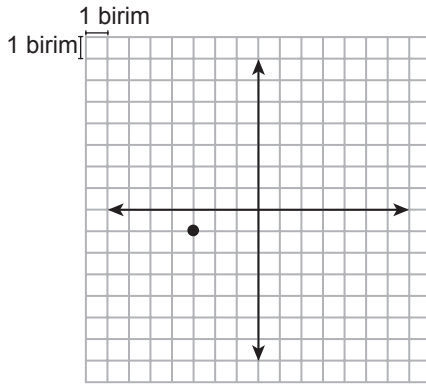
- A) 8 B) 15 C) 32 D) 39

7. Etkileşimli çalışmalar oluşturulabilecek bir programlama dilinde istenen hareketler tanımlı blokların uygun şekilde yerleştirilmesiyle elde edilmektedir. Bu programlama dilinde bulunan bazı bloklar ve tanımları aşağıda verilmiştir.



 yönüne dön → Karakterin hangi yönde hareket edeceğini belirler.
(0: yukarı, 90: sağ, 180: aşağı, -90: sol)

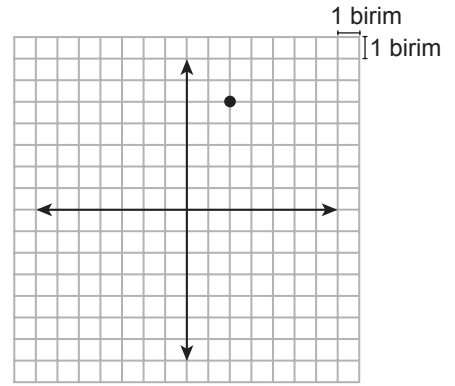
 adım git → Karakteri belirtilen birim kadar hareket ettirir.

Örnek:



1. şekil



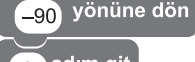

 yönüne dön
 adım git
 yönüne dön
 adım git



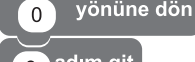



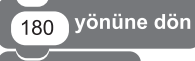
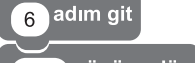


2. şekil


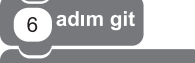


Kareli kâğıtta verilen 1. şekildeki $(-3, -1)$ noktasına yukarıdaki bloklarla belirtilen hareketler yukarıdan aşağıya doğru uygulandığında 2. şekildeki $(2, 5)$ noktası elde edilmiştir.

Buna göre $K(-1, 5)$ noktasına aşağıdaki hareketlerden hangisi uygulanırsa $L(-4, -1)$ noktası elde edilir?

A)  yönüne dön
 adım git
 yönüne dön
 adım git

B)  yönüne dön
 adım git
 yönüne dön
 adım git

C)  yönüne dön
 adım git
 yönüne dön
 adım git

D)  yönüne dön
 adım git
 yönüne dön
 adım git

8. Bir kenarının uzunluğu 10 m olan kare şeklindeki bir bahçenin sadece köşelerinde birer sulama sistemi vardır. Her bir sulama sistemi, bulunduğu köşeye uzaklığı en fazla 4 m olan kısma kadar sulama yapabilmektedir. Bu bahçenin sulama yapılamayan kısmında tabanı kare şeklinde olan bir çardak bulunmaktadır. Bu çardağın tabanının köşegeni ile bahçenin köşegeni çakışıktır.

Taban köşegeninin uzunluğu metre cinsinden bir doğal sayı olan bu çardağın taban alanı en fazla kaç metrekaredir?

- A) 18 B) 48 C) 52 D) 72

9. $0,00013 \times 10^a$ ifadesinin değeri 1000'den büyüktür.

Buna göre a'nın alabileceği en küçük tam sayı değeri kaçtır?

- A) 8 B) 7 C) 6 D) 5

10. Aşağıdaki tabloda bir lokantada satılan ve her gramında eşit kalori bulunan yemeklerin kütle ve kalorileri verilmiştir.

Tablo: Yemeklerin 100 Gramındaki Kalori Miktarları

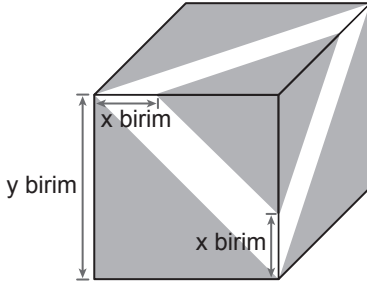
Yemek	Kalori
Çorba	45
Pilav	72
Nohut	40

Lokantadaki yemekler her bir tabakta 100 gram yemek olacak şekilde satılmaktadır.

Bu lokantadan toplam 538 kalori değerinde 10 tabak yemek sipariş verildiğinde kaç tabak nohut sipariş verilmiş olur?

- A) 2 B) 3 C) 4 D) 5

11.



Küp şeklindeki kutunun tüm yüzlerine şekildeki gibi eşit büyüklükte şeritler yapıştırılıyor ve şeritler dışında kalan üçgen biçimindeki bölgeler boyanıyor.

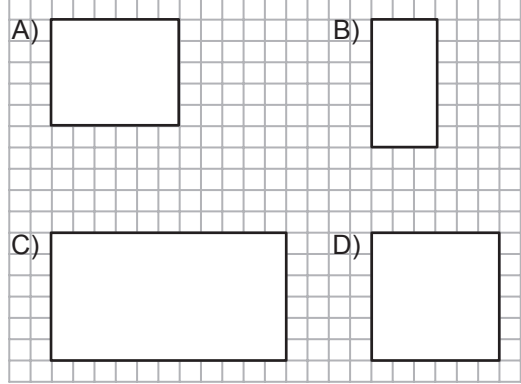
Buna göre, boyanan bölgenin alanını birimkare cinsinden gösteren cebirsel ifade aşağıdakilerden hangisidir?

- A) $6y^2 - 6xy + 3x^2$
 B) $3y^2 - 6xy + 6x^2$
 C) $6y^2 - 6xy - 3x^2$
 D) $3y^2 - 6xy - 6x^2$

12.

Kareli kâğıtta verilen aşağıdaki dikdörtgenlerden üçü aynı üçgen dik prizmaya ait yüzlerdir.

Buna göre hangisi bu üçgen prizmanın bir yüzü olamaz?



ÖLÇME, DEĞERLENDİRME VE SINAV HİZMETLERİ GENEL MÜDÜRLÜĞÜ (ÖDSGM)

13.


Aşağıdakilerden hangisi

$$3x^2 - 6xy + 3y^2$$

cebirsal ifadesinin çarpanlarından biridir?

- A) $3x$ B) $y - x$
 C) $x + y$ D) $3y^2$

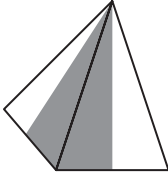
14.



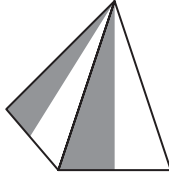
Beyaz kartondan yapılmış bir kare dik piramidin dış yüzünün bir kısmı griye boyanıyor. Bu kare dik piramidin açılımı yapıldığında dış yüzü yukarıdaki gibi görünüyor.

Buna göre aşağıdakilerden hangisi bu piramidin görünülerinden biri olamaz?

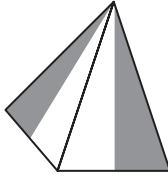
A)



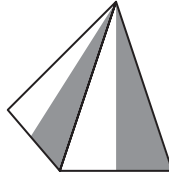
B)



C)



D)



15. İki farklı yüzme kursuna ait ücretler aşağıdaki tabloda verilmiştir.

Tablo: Kursların Ücretleri

Kurslar	Kayıt Ücreti (TL)	Aylık Ücret (TL)
1. Kurs	310	40
2. Kurs	130	55

Yüzme kursuna katılan bir kişi bir defalık kayıt ücreti ve devam ettiği her ay için aylık ücret ödemektedir.

Tabloda ücretleri verilen kurslardan birine katılmak isteyen bir kişinin en az kaç ay kursa devam etmesi durumunda 1. kursa katılması daha ekonomik olur?

A) 8

B) 9

C) 13

D) 14

16. Bir telefon şirketi müşterilerine fatura ödemelerinde iki indirim seçeneği sunmaktadır.

1. seçenek: Fatura tutarında %10 indirim
2. seçenek: Fatura tutarında 4 lira indirim

1. seçeneği tercih eden bir müşteri 2. seçeneği tercih etmiş olsaydı 3 lira daha fazla ödeme yapacaktı.

Buna göre bu müşterinin fatura tutarı kaç liradır?

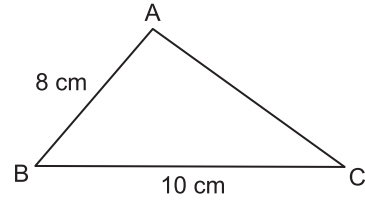
- A) 10 B) 30 C) 50 D) 70

17. Alanı 118 m^2 olan bir evin dikdörtgen biçimindeki odaları ve salonu dışındaki bölümlerinin toplam alanı 34 m^2 dir. Salonun alanı, metre-kare cinsinden bir tamkare sayıdır ve odaların alanları toplamından küçüktür.

Bu salonun kısa kenarının uzunluğu $\sqrt{18}$ m olduğuna göre uzun kenarının uzunluğu en fazla kaç metredir?

- A) $7\sqrt{2}$ B) $6\sqrt{2}$ C) $4\sqrt{2}$ D) $3\sqrt{2}$

18.



ABC üçgeninde $m(\widehat{BAC}) > m(\widehat{ABC})$,
 $|AB| = 8 \text{ cm}$ ve $|BC| = 10 \text{ cm}$ 'dir.

Buna göre $|AC|$ 'nin santimetre cinsinden alabileceği kaç farklı tam sayı değeri vardır?

- A) 5 B) 6 C) 7 D) 8

19. Bir kargo şirketi gönderilen kargonun kilogram cinsinden kütlesi ile desimetreküp cinsinden hacmini hesaplıyor ve hangisine göre kargo ücreti fazla ise o ücreti alıyor. Bu kargo şirketine ait ücret tarifesi Tablo 1 ve Tablo 2'de verilmiştir.

Tablo 1: Kütlelerine Göre Kargo Ücreti

Kütle (x kg)	Ücret (TL)
$0 < x \leq 3$	5
$3 < x \leq 6$	6,50
$6 < x \leq 10$	8

Tablo 2: Hacimlerine Göre Kargo Ücreti

Hacim (y dm ³)	Ücret (TL)
$0 < y \leq 9$	5,50
$9 < y \leq 18$	7
$18 < y \leq 30$	9

Buse bu kargo şirketi ile Tablo 3'te yarıçaplarının uzunlukları, yükseklikleri ve kütleleri verilen dik dairesel silindir şeklindeki kargoları yollamıştır.

Tablo 3: Kargolara Ait Bilgiler

Kargo	Yarıçapının Uzunluğu (cm)	Yüksekliği (cm)	Kütlesi (kg)
1. kargo	12	20	4
2. kargo	15	18	6

Buna göre Buse bu kargolar için kaç lira ödeme yapmıştır? (π yerine 3 alınız.)

- A) 12 B) 12,50 C) 13 D) 13,50

20. 400 metrelik düz bir yarış pistine başlangıç noktasına uzaklıkları metre cinsinden 2'nin pozitif tam sayı kuvvetleri olacak şekilde yerleştirilebilecek en fazla sayıda engel yerleştiriliyor. Bu pistte 8 atletin yarıştığı bir engelli koşusunda yarışmacılardan biri 20. metrede, bir diğeri 50. metrede yarışı bırakıyor.

Diğer yarışmacılar yarışı tamamladığına göre yarış bittiğinde atletlerin her birinin üzerinden atladığı engel sayılarının toplamı kaçtır?

- A) 57 B) 63 C) 64 D) 72

**MATEMATİK TESTİ BİTTİ.
FEN BİLİMLERİ TESTİNE GEÇİNİZ.**

SINAV BAŞLAMADAN AŞAĞIDAKİ UYARILARI MUTLAKA OKUYUNUZ!

1. Öğrenciler, sınav kurallarına ve salon görevlilerinin tüm uyarılarına uymak zorundadırlar.
2. Sınav başladıktan sonra öğrencilerin salon görevlileri ve birbirleri ile konuşmaları; kalem, silgi vb. şeyleri istemeleri yasaktır.
3. Cevap kâğıdınızı silinmeyen bir kalemle imzalayınız.
4. Sınav sırasında çanta, cep telefonu, saat, kablosuz iletişim sağlayan cihazlar ve kulaklık, kolye, küpe, bilezik, yüzük, broş ve benzeri eşyalar ile her türlü elektronik ve/veya mekanik cihazları yanınızda bulundurmuyunuz. Bu araçları kullanmanız ve kopya çekmeye teşebbüs etmeniz hâlinde sınavınız geçersiz sayılacaktır.
5. Soru kitapçığının sayfalarını görevlilerin uyarıları doğrultusunda kontrol ediniz, baskı hatası var ise değiştirilmesini sağlayınız.
6. Cevaplamaya istediğiniz sorudan başlayabilirsiniz.
7. Soru kitapçığının içindeki boş alanları çözümlerinizi için kullanabilirsiniz.
8. Cevabını bilmediğiniz sorular üzerinde fazla zaman kaybetmeden diğer sorulara geçiniz. Zamanınız kalırsa bu sorulara daha sonra dönebilirsiniz.
9. Soru kitapçığı üzerinde yapıp cevap kâğıdına işaretlenmeyen cevaplar değerlendirmeye alınmayacaktır.
10. Cevaplarınızı, cevap kâğıdındaki ilgili soru numarasını dikkate alarak yuvarlağın dışına taşımadan kurşun kalemle kodlayınız.
11. Değiştirmek istediğiniz bir cevabı, yumuşak silgiyle cevap kâğıdını yıpratmadan temizce siliniz ve yeni cevabınızı kodlayınız.
12. Cevap kâğıdınızı sınav süresince hiçbir öğrencinin göremeyeceği şekilde önünüzde bulundurunuz.
13. Sınavınızın değerlendirilmesi aşamasında, toplu kopya tespiti veya başka adayın sınav evrakını kullanmanız durumunda sınavınız geçersiz sayılacaktır.
14. Sağlık sorunu dışında dışarı çıkılmayacak, zorunlu durumlarda adaya yedek gözetmen eşlik edecektir.
15. Soruları ve sorulara verdiğiniz cevapları kaydetmeyiniz, hiçbir şekilde dışarı çıkarmayınız.
16. Sınav bitiminde, soru kitapçığı ve cevap kâğıdını salon görevlilerine teslim ediniz.
17. Sınav evraklarını teslim etmeyenlerin sınavı geçersiz sayılacaktır.
18. Puanlama : Her bir ders testine ait ham puan; ilgili teste ait doğru cevap sayısından yanlış cevap sayısının üçte biri çıkarılarak hesaplanacaktır.

SINAV GÖREVLİLERİNCE SINAV BAŞLAMADAN ÖNCE ÖĞRENCİLERE YAPILACAK SON UYARILAR

- Soracağınız bir şey varsa şimdi sorunuz, sınav başladıktan sonra sorularınıza cevap verilmeyecektir.
- Başlama zilini bekleyiniz.

Hepinize başarılar dileriz.

(Sınav görevlisi başlama ve bitiş saatini tahtaya yazacaktır.)

**02.06.2018 TARİHİNDE YAPILAN SINAVLA ÖĞRENCİ ALACAK ORTAÖĞRETİM
KURUMLARINA İLİŞKİN MERKEZİ SINAV “SAYISAL BÖLÜM”
“A” KİTAPÇIĞI CEVAP ANAHTARI**

MATEMATİK

1. B
2. D
3. A
4. C
5. B
6. B
7. C
8. A
9. B
10. C
11. A
12. C
13. B
14. D
15. C
16. D
17. B
18. C
19. D
20. A

FEN BİLİMLERİ

1. A
2. C
3. B
4. C
5. D
6. B
7. D
8. C
9. A
10. B
11. B
12. D
13. D
14. A
15. B
16. A
17. C
18. B
19. C
20. D